



# ПРОБНЕ ТЕСТУВАННЯ З ІСТОРІЇ УКРАЇНИ

Час виконання – 150 хвилин

Зошит

1

Робота складається з двох частин.

Частина 1 «Історія України ХХ – початку ХХІ ст.» містить 30 завдань різних форм. Відповіді на завдання частини 1 Ви маєте позначити та записати в бланку А.

Частина 2 «Історія України від найдавніших часів до кінця ХІХ ст.» містить 30 завдань різних форм. Відповіді на завдання частини 2 Ви маєте позначити та записати в бланку А.


Результат виконання завдань 1 і 2 буде використано під час прийому до вищих навчальних закладів.

## Інструкція щодо роботи в зошиті

1. Правила виконання зазначені перед завданнями кожної нової форми.
2. Відповідайте тільки після того, як Ви уважно прочитали та зрозуміли завдання.
3. У разі необхідності використовуйте як чернетку вільні від тексту місця в зошиті.
4. Намагайтеся виконати всі завдання.

## Інструкція щодо заповнення бланка відповідей А

1. До бланка А записуйте лише правильні, на Вашу думку, відповіді.
2. Відповіді вписуйте чітко, дотримуючись вимог інструкції до кожної форми завдань.
3. Якщо Ви позначили відповідь на завдання 1–28 і 31–58 неправильно, можете виправити її, замалювавши попередню позначку та поставивши нову, як показано на зразку:



4. Якщо Ви записали відповідь на завдання 29, 30 і 59, 60 неправильно, можете виправити її у відповідному місці бланку А.
5. Ваш результат залежатиме від загальної кількості правильних відповідей, зазначених у бланку А.

Ознайомившись з інструкціями, перевірте якість друку зошита та кількість сторінок. Їх має бути 20.

Позначте номер Вашого зошита у відповідному місці бланку А так:

1	2	3	4	5	6	7	8	9	10	11	12	13	14	15
X														

**Бажаємо вам успіху!**

## Частина 1

Історія України ХХ – початку ХХІ століття

### Пам'ятайте!

Результат виконання завдань частини 1 буде зараховано як результат державної підсумкової атестації

Завдання 1–23 мають по чотири варіанти відповіді, серед яких лише один правильний. Виберіть правильний, на Вашу думку, варіант відповіді, позначте його в *бланку А* згідно з інструкцією. Не робіть інших позначок у *бланку А*, тому що комп'ютерна програма реєструватиме їх як помилки!

Будьте особливо уважні під час заповнення *бланку А*!

Не погіршуйте власноручно свого результату неправильною формою запису відповідей

1. Першою національною партією Наддніпрянської України була:

- А. НУП
- Б. РУП
- В. УДП
- Г. УСДРП

2. Яка форма монополістичного об'єднання була домінуючою в промисловості Наддніпрянської України на початку ХХ ст.

- А. трест
- Б. картель
- В. концерн
- Г. синдикат

3. Коли почалося повстання на броненосці «Потьомкін»?

- А. 9 січня 1905 р.
- Б. 14 червня 1905 р.
- В. 24 червня 1905 р.
- Г. 17 жовтня 1905 р.


4. Хто очолював Українську думську громаду в I Державній думі?

- А. І. Шраг
- Б. М. Грушевський
- В. М. Туган-Барановський
- Г. А. Жук


5. Предстоятелем УГКЦ у 1900 р. обрано



А.



Б.



В.




Г.

6. «Ідучи війною на Австро-Угорську монархію, Росія грозить також загином українському національному життю, яке знайшло охорону у конституційному устрою австрійської держави. Перемога Росії мала би принести українському народові австро-угорської монархії те саме ярмо, в якому стогне 30 мільйонів українського народу в Російській імперії»

Яка українська політична організація виступила з таким зверненням до українського народу на початку Першої світової війни

- А. Головна українська рада (ГУР)
- Б. Союз визволення України (СВУ)
- В. Товариство українських поступовців (ТУП)
- Г. Загальна українська рада (ЗУР)


7. Головою Державного секретаріату ЗУНР був



А.



Б.



В.



Г.


8. Укажіть характерну ознаку політики Української Центральної Ради щодо національних меншин

- А. ігнорування потреб національних меншин
- Б. надання переваг російськомовному населенню
- В. формування національних автономних округів у складі УНР
- Г. Визнання права на національно-персональну автономію

9. Одним із організаторів першого Курултаю, першим головою уряду Кримської народної республіки був



А



Б



В



Г

10. Головою Директорії був




А



Б

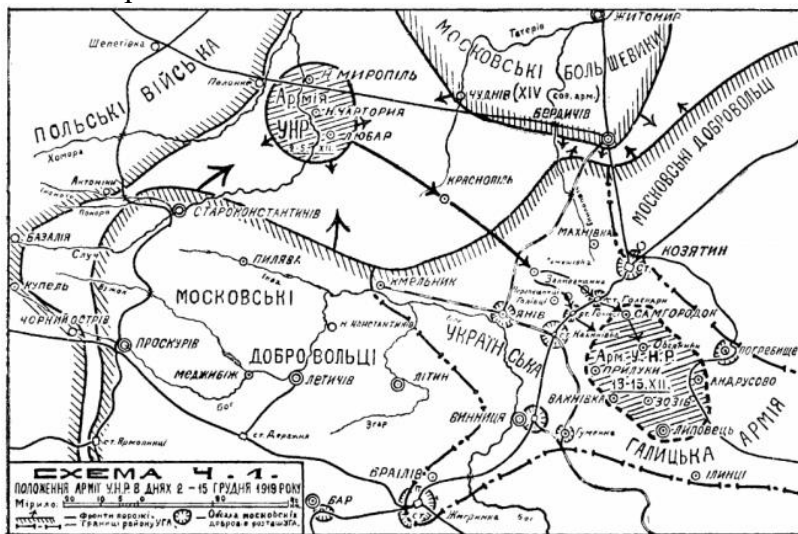


В



Г

11. На карто-схемі позначено



- А. перший зимовий похід армії УНР
- Б. другий зимовий похід армії УНР
- В. бій під Крутами
- Г. радянсько-польська війна 1920 р.

12. Головою Тимчасового робітничо-селянського уряду України був

- А. М. Скрипник
- Б. О. Шумський
- В. Л. Каганович
- Г. Х. Раковський


13. Яку п'ятирічку було проголошено п'ятирічкою знищення релігії в СРСР?

- А. першу
- Б. другу
- В. третю
- Г. четверту

14. Першим головою ОУН був

- А. С. Бандера
- Б. А. Мельник
- В. Є. Коновалець
- Г. А. Волошин

15. Який із соборів було знищено у 1930-ті роки?



А.



Б.



В.



Г.

16. Відновлення Української незалежності 30 червня 1941 р. у Львові проголосив

А. А. Волошин

Б. Я. Стецько

В. С. Бандера

Г. Р. Шухевич

17. Який період Другої світової війни ілюструє подане фото?



- А. серпень-вересень 1939 р.
- Б. червень-липень 1942 р.
- В. вересень-листопад 1943 р.
- Г. січень-лютий 1944 р.

18. Що ілюструє подана карто-схема?



- А. партизанський рейд С. Ковпака
- Б. діяльність УПА
- В. Корсунь-Шевченківську операцію
- Г. відхід нацистських військ з України

19. Коли відбулася депортація кримських татар?

- А. липень 1941 р.
- Б. грудень 1943 р.
- В. травень 1944 р.
- Г. квітень 1947 р.

20. Позначте прізвище засновника Української робітничо-селянської спілки

- А. А. Горська
- Б. В. Стус
- В. В. Чорновіл
- Г. Л. Лук'яненко

21. Питання приналежності якого острова (півострова) викликало напруженість в україно-російських відносинах у 2003 р.

- А. Криму
- Б. Березані
- В. Тузли
- Г. Зміїного

22. Що ілюструє подана світлина?



- А. Революцію гідності
- Б. російську окупацію Кримського півострова
- В. вихід із Іловайського котла
- Г. оборону Донецького аеропорту

23. У якому році відбулася подія зображена на фото?



- А. 2017
- Б. 2018
- В. 2019
- Г. 2020

У завданнях 24–26 до кожного з чотирьох рядків інформації, позначених цифрами, доберіть один правильний, на Вашу думку, варіант, позначений буквою. Поставте позначки в таблицях відповідей до завдань у бланку А на перетині відповідних рядків (цифри) і колонок (букви). Усі інші види Вашого запису в бланку А комп'ютерна програма реєструватиме як помилки!

Будьте особливо уважні під час заповнення *бланка А!*  
Не погіршуйте власноручно свого результату неправильною формою запису відповідей

24. Установіть відповідність між періодами і поняттями, які їх характеризують

1. радянсько-німецька війна (1941–1945)
2. післявоєнна відбудова (1945 – поч. 1950-х)
3. десталінізація (1953–1964)
4. загострення кризи радянської системи (сер. 1960-х – поч. 1980-х)

	А	Б	В	Г	Д
1					
2					
3					
4					

- А. операція «Вісла», «ждановщина», космополітизм, «лисенківщина»
- Б. стахановський рух, «Закон про п'ять колосків», «розстріляне відродження», форсована індустріалізація
- В. застій, номенклатура, дефіцит, правозахисник
- Г. голокост, «новий порядок», «рух Опору», колабораціонізм
- Д. «відлига», лібералізація, раднаргоспи, шістдесятники

25. Установіть відповідність між визначеннями та поняттями

1. самвидав
2. дефіцит
3. стагнація
4. інфляція

	А	Б	В	Г	Д
1					
2					
3					
4					

- А. перевищення видатків над прибутками
- Б. довготривала криза, що охоплює всі сфери життя суспільства
- В. підпільна література, що створена дисидентами й таємно поширювалася в СРСР
- Г. застій в економіці
- Д. надмірне збільшення маси паперових грошей, що перебувають в обігу, порівняно з реальною пропозицією товарів та послуг

26. Установіть відповідність між особою та галуззю яку вона представляє

1. К. Білокур
2. В. Стус
3. С. Корольов
4. Л. Танюк

	А	Б	В	Г	Д
1					
2					
3					
4					

- А. поезія
- Б. ракетобудування
- В. кінематограф
- Г. живопис
- Д. медицина

У завданнях 27 і 28 розташуйте події в хронологічній послідовності. Поставте позначки в таблицях відповідей до завдань у бланку А на перетині відповідних рядків (цифри) і колонок (букви). Цифрі 1 має відповідати вибрана Вами перша подія, цифрі 2 – друга, цифрі 3 – третя, цифрі 4 – четверта. Усі інші види Вашого запису в бланку А комп'ютерна програма реєструватиме як помилки!

Будьте особливо уважні під час заповнення бланка А!  
Не погіршуйте власноручно свого результату неправильною формою запису відповідей



27. Розташуйте у хронологічній послідовності події

- А. повстання полку ім. Гетьмана П. Полуботка
- Б. З'їзд поневолених народів Росії
- В. перший Всеукраїнський з'їзд Вільного козацтва
- Г. створення Комітету порятунку революції

	А	Б	В	Г
1				
2				
3				
4				

28. Розташуйте у хронологічній послідовності події

- А. прийняття Конституції України
- Б. затвердження Верховною Радою України Державного герба
- В. затвердження Верховною Радою України Державного прапора
- Г. проголошення незалежності України

	А	Б	В	Г
1				
2				
3				
4				

Завдання 29 і 30 мають по сім варіантів відповідей, з яких лише три правильні. Виберіть три цифри, що позначають правильні, на Вашу думку, відповіді, та запишіть їх у бланку А згідно з інструкцією. Порядок написання цифр значення не має. Для виправлення помилково вказаної відповіді запишіть новий варіант відповіді (три цифри) у спеціально відведеному місці бланка А. Не робіть інших записів у бланку А, тому що комп'ютерна програма реєструватиме їх як помилки!

**Будьте особливо уважні під час заповнення бланка А!  
Не погіршуйте власноручно свого результату неправильною формою запису відповідей**

29. Позначте назви регіональних радянських республік, створених більшовиками взимку – навесні 1918 р.

- 1. Донецько-Криворізька республіка
- 2. Українська Народна Республіка
- 3. Кримська Автономна Республіка
- 4. Одеська радянська республіка
- 5. Радянська Соціалістична Республіка Таврида
- 6. Українська Соціалістична Радянська Республіка
- 7. Галицька Соціалістична Радянська Республіка

--	--	--

30. Позначте події, які відбулися в один рік

- 1. грошова реформа
- 2. операція «Вісла»
- 3. Львівський собор
- 4. скасування карткової системи
- 5. початок четвертої п'ятирічки
- 6. загибель командуючого УПА Р. Шухевича
- 7. створення раднаргоспів

--	--	--

Ви завершили роботу над завданнями частини 1.  
Перевірте правильність перенесення своїх відповідей у бланк А.

**Пам'ятайте!**

Результат виконання завдань частини 1 буде зараховано як результат державної підсумкової атестації.

## Частина 2

Історія України від найдавніших часів до кінця XIX століття

Завдання 31–53 мають по чотири варіанти відповіді, з яких лише один правильний. Виберіть правильний, на Вашу думку, варіант відповіді, позначте його в бланку А згідно з інструкцією. Не робіть інших позначок у бланку А, тому що комп'ютерна програма реєструватиме їх як помилки!

Будьте особливо уважні під час заповнення бланка А!  
Не погіршуйте власноручно свого результату неправильною формою запису відповідей

**31.** Спеціальна історична дисципліна, що вивчає способи обчислення часу:

- А. антропологія
- Б. генеалогія
- В. хронологія
- Г. археологія

**32.** На українських землях первісна людина з'явилася:

- А. в ашельську епоху
- Б. у мустьєрську епоху
- В. у мадленську епоху
- Г. олдувайську епоху

**33.** До якого періоду належать події, описані візантійським істориком?

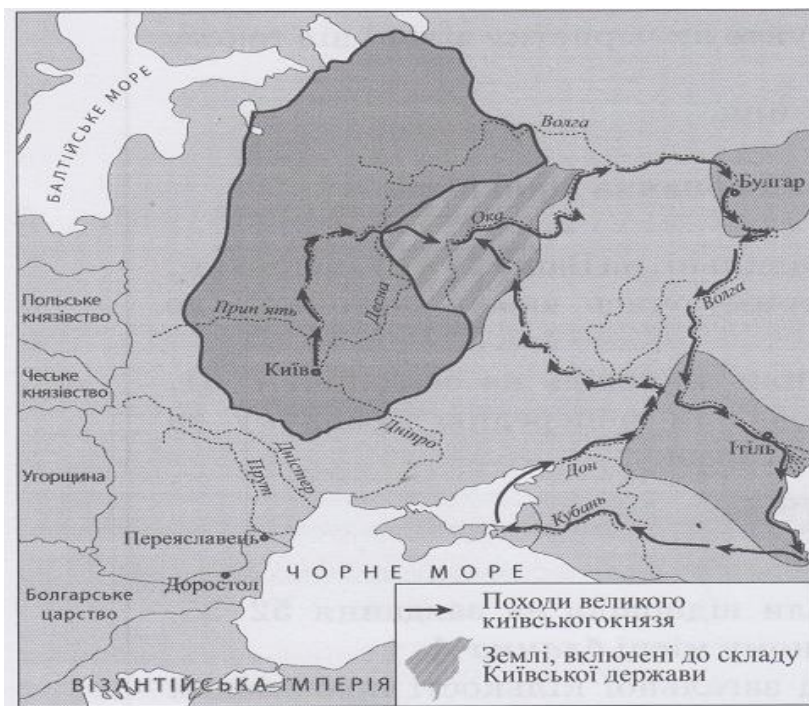
*«Тепер слов'яни бушують повсюдно... Вони спустошили та спалили міста й фортеці, узяли полонених і стали панами на землі. Вони осіли на ній панами, як на своїй, без страху... І нині вони живуть тут і перебувають у країні ромейв... Зіслов'янилась вся наша земля і стала варварською»?*

- А. III–IV ст.
- Б. V–VII ст.
- В. VIII–IX ст.
- Г. X–XI ст.

**34.** Вкажіть рік першого походу Олега на Константинополь:

- А. 907 р.
- Б. 906 р.
- В. 905 р.
- Г. 910 р.

35. Що стало одним із наслідків подій, перебіг яких відображено на карті?



- А. завершення процесу формування території Русі
- Б. розширення політичних зв'язків Русі з країнами Західної Європи
- В. налагодження рівноправних стосунків Русі з Візантійською імперією
- Г. відкриття шляху на Русь кочовим ордам Сходу, насамперед печенігам

36. Назвіть твір, що містить подану на фото мініатюру



- А. «Ізборник Святослава»
- Б. «Слово про закон і благодать»
- В. «Остромирове Євангеліє»
- Г. «Слово о полку Ігоревім»

37. На карті позначено Галицько-Волинську державу та князівства, залежні від неї, за правління:



- А. Лева Даниловича
- Б. Юрія II Болеслава
- В. Романа Мстиславовича
- Г. Ярослава Осмомисла

38. Яку історично-культурну пам'ятку зображено на фото?




- А. костел святого Варфоломія в м. Дрогобич
- Б. Покровська церква – фортеця в с. Сутківці
- В. церква Зішестя святого Духа в с. Потелич
- Г. П'ятницька церква в м. Чернігів

39. Вкажіть роки в які було прийнято Литовські статути

- А. 1529, 1566, 1588 рр.
- Б. 1529, 1566, 1599 рр.
- В. 1526, 1566, 1599 рр.
- Г. 1526, 1567, 1588 рр.

- 40.** Греко-католицька церква в Україні виникла після підписання:  
А. Кревської унії  
Б. Люблінської унії  
В. Городельської унії  
Г. Брестської унії
- 41.** Генеральна битва між повстанцями на чолі з С. Наливайком та польськими військами відбулася поблизу:  
А. урочища Ведмежі Лози  
Б. урочища Солониця  
В. під Кумейками  
Г. під Білою Церквою
- 42.** Який період охоплює Доба героїчних походів козаків?  
А. 1600 – 1620-ті рр.  
Б. 1625 – 1638 рр.  
В. 1638 – 1648 рр.  
Г. 1648–1657 рр.
- 43.** На першому етапі національно-визвольної війни Б. Хмельницький уклав союз із:  
А. Кримським ханством  
Б. Туреччиною  
В. Швецією  
Г. Московією
- 44.** Мир, укладений між Річчю Посполитою та Московським царством у 1667 р., отримав назву:  
А. Вічний мир  
Б. Бахчисарайський мир  
В. Андрусівський мир  
Г. Корсунька угода
- 45.** Кому турецький султан надав титул «князя Сарматії та України, володаря Війська Запорозького»?  
А. П. Суховію  
Б. П. Дорошенку  
В. Ю. Хмельницькому  
Г. І. Самойловичу
- 46.** Перші згадки про рух гайдамаків на Правобережжі датуються:  
А. 1711 р.  
Б. 1715 р.  
В. 1722 р.  
Г. 1725 р.

47. Виберіть портрет гетьмана, якого було обрано 1750 року згідно з царським указом «О бытии в Малороссии гетману по прежним правам и обыкновениям».



- А. 1
- Б. 2
- В. 3
- Г. 4

48. Що спричинило оприлюднення цитованого документа?

*«...Ми, Катерина II, імператриця всеросійська... Об'являємо всім нашим людям, які живуть в... Речі Посполитій, зокрема у воєводствах Київському, Подільському, Брацлавському, Волинському... Ми змушені з жалем прийняти до відома, що... кріпаки, відкинувши послух владі і їхнім панам допустились убивств... внаслідок обману розбишак, які видають себе частиною Війська Запорозького...»*

- А. Коліївщина
- Б. Рух опришків
- В. «Холерні бунти»
- Г. «Ходіння в народ»

49. Кріпацтво на Лівобережній і Слобідській Україні було запроваджено у:

- А. 1783 р.
- Б. 1775 р.
- В. 1764 р.
- Г. 1757 р.

50. Процес переходу від ручної праці до машинної, від мануфактури до фабрики називається:

- А. технічний прогрес
- Б. промисловий переворот
- В. індустріалізація
- Г. науково-технічна революція

51. Головна Руська Рада мала на меті:

- А. досягти державності для галицьких українців;
- Б. надати автономію полякам;
- В. відродити українську символіку.
- Г. розвиток економічних відносин

52. Автором якого громадівського журналу в 60-х роках XIX ст. був діяч зображений на фото?



- А. «Громада»
- Б. «Основа»
- В. «Зоря галицька»
- Г. «Київська старина»

53. Будівництво Курсько-Харково-Азовської залізниці було закінчено:

- А. у 1865 р.
- Б. у 1868 р.
- В. у 1869 р.
- Г. у 1870 р.

У завданнях 54–56 до кожного з чотирьох рядків інформації, позначених цифрами, доберіть один правильний, на Вашу думку, варіант, позначений буквою. Поставте позначки в таблицях відповідей до завдань у бланку А на перетині відповідних рядків (цифри) і колонок (букви). Усі інші види Вашого запису в бланку А комп'ютерна програма реєструватиме як помилки!

Будьте особливо уважні під час заповнення *бланка А!*  
Не погіршуйте власноручно свого результату **неправильною формою запису відповідей**

54. Установіть відповідність між поняттями та їхніми визначеннями

- 1. «Вотчина»
- 2. «Фільварок»
- 3. «Паланка»
- 4. «Магістрат»

- А. адміністративно-територіальна одиниця, на які поділялися землі Вольностей Війська Запорозького
- Б. велике багатогалузеве господарство, засноване на праці кріпосних селян та орієнтоване на виробництво збіжжя на продаж.
- В. військова й адміністративно-територіальна одиниця Лівобережної Гетьманщини та Слобідської України
- Г. орган міського самоврядування в містах, що користувалися магдебурзьким правом
- Д. комплекс спадкової земельної власності (землі, будівлі, інвентар) та пов'язаних із ним прав на феодално залежних селян

	А	Б	В	Г	Д
1					
2					
3					
4					

55. Установіть відповідність між подіями та їхніми наслідками.

1. повстання на Правобережній Україні під проводом С. Палія (1702 – 1704 рр.)
2. перехід гетьмана І. Мазепи на бік Карла XII (1708 р.)
3. похід П. Орлика на Правобережню Україну (1711 р.)
4. Другий поділ Речі Посполитої

- А. Зруйнування Чортомлицької Січі
- Б. включення Правобережньої України до складу Російської імперії
- В. скасування козацького полково-сотенного устрою на Правобережній і Лівобережній Україні
- Г. спустошення Правобережжя ногайцями, контрнаступ російських військ і примусове переселення людей на лівий берег Дніпра
- Д. об'єднання гетьманом І. Мазепою Лівобережньої та Правобережньої України

	А	Б	В	Г	Д
1					
2					
3					
4					

56. Установіть відповідність між персонами та сферами їхньої творчості і фактами біографії.

1. М. Шашкевич
2. В. Каразін
3. П. Чубинський
4. Б. Грінченко

	А	Б	В	Г	Д
1					
2					
3					
4					

- А. етнограф, фольклорист. У 1861–1870-х рр. співпрацював у журналі «Основа», один із засновників київської «Старої громади». У 1869–1870 рр. очолював етнографічні експедиції Україною.
- Б. письменник, закінчив Львівську семінарію, організатор і лідер «Руської трійці», автор перших в українській літературі сонетів «До...», «Сумрак вечірній».
- В. фольклорист, мовознавець. Один із засновників Братства тарасівців, редактор «Словаря української мови». У 1906 – 1909 рр. очолював київську «Просвіту».
- Г. історик, публіцист. У 1846–1847 рр. – ад'юнкт-професор Київського університету, один із засновників Кирило-Мефодіївського братства, автор «Книги буття українського народу».
- Д. ініціатор відкриття Харківського університету (1805 р.), створення Філотехнічного товариства (1811 р.), за критику існуючого ладу ув'язнений у Шліссельбурзькій фортеці (1820 р.).



У завданнях 57 і 58 розташуйте події в хронологічній послідовності. Поставте позначки в таблицях відповідей до завдань у бланку А на перетині відповідних рядків (цифри) і колонок (букви). Цифри 1 має відповідати вибрана Вами перша подія, цифри 2 – друга, цифри 3 – третя, цифри 4 – четверта. Усі інші види Вашого запису в бланку А комп'ютерна програма реєструватиме як помилки!

Будьте особливо уважні під час заповнення *бланка А!*  
Не погіршуйте власноручно свого результату неправильною формою запису відповідей

57. Розташуйте події в хронологічному порядку:

- А. занепад Великої Скіфії
- Б. війна скіфів із військами персидського царя Дарія I
- В. скіфське завоювання Балкан
- Г. початок грецької колонізації Північного Причорномор'я

	А	Б	В	Г
1				
2				
3				
4				

58. Розташуйте в хронологічній послідовності імена Великих литовських князів:

- А. Ягайло
- Б. Гедимін
- В. Вітовт
- Г. Міндовг

	А	Б	В	Г
1				
2				
3				
4				

Завдання 59 і 60 мають по сім варіантів відповідей, з яких лише три правильні. Виберіть три цифри, що позначають правильні, на Вашу думку, відповіді, та запишіть їх у бланку А згідно з інструкцією. Порядок написання цифр значення не має. Для виправлення помилково вказаної відповіді запишіть новий варіант відповіді (три цифри) у спеціально відведеному місці бланка А. Не робіть інших записів у бланку А, тому що комп'ютерна програма реєструватиме їх як помилки!

Будьте особливо уважні під час заповнення *бланка А!*  
Не погіршуйте власноручно свого результату неправильною формою запису відповідей

59. Укажіть ознаки неолітичної революції.

- 1. винайдення першого штучного продукту – сплаву міді та олова.
- 2. виникнення землеробства та скотарства.
- 3. відокремлення скотарства від землеробства.
- 4. перехід до осілого способу життя.
- 5. винайдення монументального будівництва.
- 6. відокремлення ремесла від землеробства.
- 7. виникнення виробництва керамічного посуду, прядіння, ткацтва

--	--	--

60. Які держави були головними суперниками в боротьбі за галицько-волинську спадщину в XIV–XV ст.?

- 1. Велике князівство Литовське
- 2. Королівство Польща
- 3. Велике князівство Московське
- 4. Золота Орда
- 5. Кримське ханство
- 6. Королівство Угорщина
- 7. Османська імперія

--	--	--

Ви завершили роботу над завданнями частини 2.  
Перевірте правильність перенесення своїх відповідей у *бланк А*.  
Якщо час, відведений на виконання завдань частин 1 і 2, спливає, здайте *бланк А* інструктору.

Кінець зошита.